

<b>Nivel educativo</b>	2
<b>Asignatura</b>	Mate
<b>N° de Ficha</b>	24
<b>Objetivo de Aprendizaje</b>	Representar y describir posición de objetos y personas en relación a sí mismos y a otros objetos y personas, incluyendo derecha e izquierda y usando material concreto y dibujos.

## Posiciones en relación a sí mismo.

Para empezar, te invitamos a ver el siguiente video.

<https://www.youtube.com/watch?v=h5X5c7P6HTk>


En síntesis, describirás la posición de objetos y personas respecto de un punto u objeto de referencia, empleando conceptos de ubicación adelante de/ detrás de.



Los niños están adelante y detrás del \_\_\_\_\_.

Entonces el árbol es el **punto de referencia** para ver las posiciones de los niños.

1. Pinta de azul la niña que está adelante del niño que tiene una bandera y de amarillo la niña que está detrás del niño de la bandera.




2. Dibuja 2 elementos que están adelante y 2 que está atrás de la señora.




Adelante

Atrás

3. Cuenta la cantidad de vacas que hay adelante del cerco.  
Anota el cardinal en el espacio en blanco.




4. De acuerdo a la imagen, responde.



- ¿Cuántas personas hay atrás de la meta? \_\_\_\_\_
- ¿Cuántas personas están adelante de la meta? \_\_\_\_\_
- ¿Cuál es el punto de referencia de acuerdo a la posición de las personas? \_\_\_\_\_

5. Dibuja en el paisaje:




- Una niña a la izquierda de la casa, y que la casa quede atrás de la niña.

Un niño a la derecha de la casa, y adelante de una camioneta.

### TICKET DE SALIDA

1. ¿En cuál imagen Pikachu está atrás de la caja?



A)


B)

C)


D)

2. ¿Quién está adelante del caballo?

- A) El tigre.
- B) La vaca.
- C) La tortuga.
- D) El león.



3. ¿Cuál es la opción que completa correctamente la oración?




La mujer de la moto está \_\_\_\_\_ del último auto.

- A) encima
- B) atrás
- C) abajo
- D) adelante


4. ¿Cuántas flores hay atrás del conejito?

- A) 1
- B) 2
- C) 3
- D) 5



1. ¿Cuántos ratones hay delante de los gatos?

- A) 6
- B) 7
- C) 3
- D) 9



### SOLUCIONARIO

1	B
2	C
3	D
4	B
5	A