

Nivel educativo	2
Asignatura	Mate
N° de Ficha	22
Objetivo de Aprendizaje	Representar y describir posición de objetos y personas en relación a sí mismos y a otros objetos y personas, incluyendo derecha e izquierda y usando material concreto y dibujos.


Posiciones en relación a sí mismo.

Para empezar, te invitamos a ver el siguiente video.

https://www.youtube.com/watch?v=1bIS_S2AE4

En síntesis, describirás la posición de personas u objetos en relación a sí mismos y a otros utilizando palabras como: derecha/ izquierda, arriba /abajo, adelante/atrás, adentro/ afuera.

1. Observa detenidamente la imagen:



- ¿Qué peluche está arriba de la cama? _____
- ¿Qué hay atrás del oso de peluche? _____
- ¿Qué hay arriba del velador? _____
- ¿Qué hay adentro del baúl? _____
- ¿Qué hay debajo del oso? _____
- ¿Qué hay a la izquierda de la alfombra? _____

2. Francisco, desea organizar su cocina de la mejor manera, la mamá para ayudarlo, le sugirió realizar lo siguiente:

- Guardar los platos arriba de los vasos.
- Guardar las tazas a la derecha de los platos.
- Colocar los utensilios de cocina debajo de las botellas.
- Colocar el florero arriba de los vasos altos o cañas.



- Luego de ordenar los objetos, quedaron así, como se muestra en la imagen. ¿Qué objetos colocó Francisco de forma incorrecta? Dibuja.

A large, empty rounded rectangular box with a thin black border, intended for drawing the incorrectly placed items.

3. Este es el plano del dormitorio de Daniel. Dibuja dónde están ubicados los muebles teniendo en cuenta las instrucciones.



- La cama está apoyada en la pared a la derecha de la ventana.
- El velador está a la izquierda de la cama.
- El escritorio está ubicado contra la pared que está frente a la ventana.
- La cómoda está apoyada en la pared a la derecha de la puerta.
- El papelerero está entre la cómoda y el escritorio.

TICKET DE SALIDA


1. Teresa y Felipe, estudiantes de segundo básico, desean organizar su sala de la mejor manera. La profesora, para ayudarlos, les sugirió realizar lo siguiente:

- Guardar el oso debajo de la pelota.
- Guardar el auto a lado del oso.
- Colocar la muñeca a la derecha de la pelota.
- Colocar el soldado arriba del auto





¿Qué objetos colocaron de forma incorrecta?

- A) El oso.
- B) El soldado.
- C) La muñeca.
- D) La pelota.

2. ¿En qué posición está  ?

A) Delante de 


B) Al medio de 

C) A la derecha de 

D) Detrás de 




3. A partir de la siguiente imagen, responde.



¿Cuántos perritos miran hacia la izquierda?


- A) 10
- B) 6
- C) 4
- D) 7

4. ¿Qué objetos están a la derecha del lápiz?



- A) El reloj.
- B) La pelota y el oso de peluche.
- C) El reloj y el oso de peluche.
- D) El lápiz.

5. Eduardo está entre _____ y _____.



- A) Elsa y Araceli
- B) Alfredo y Elsa
- C) Alfredo y Aitana
- D) Aitana y Elsa

SOLUCIONARIO

1	C
2	D
3	C
4	B
5	A