

Nivel educativo	1
Asignatura	Mate
N° de Ficha	10
Objetivo de Aprendizaje	Identificar y comparar la longitud.

COMPARANDO LONGITUDES

Para empezar, te invitamos a ver el siguiente video.

<https://www.youtube.com/watch?v=nQYABfXFf5c>

En síntesis, compararás objetos según su longitud, si es más largo o más corto que otro.

1. Primero verás cómo son los objetos.

Observa estos dos medios de locomoción e indica cómo son.



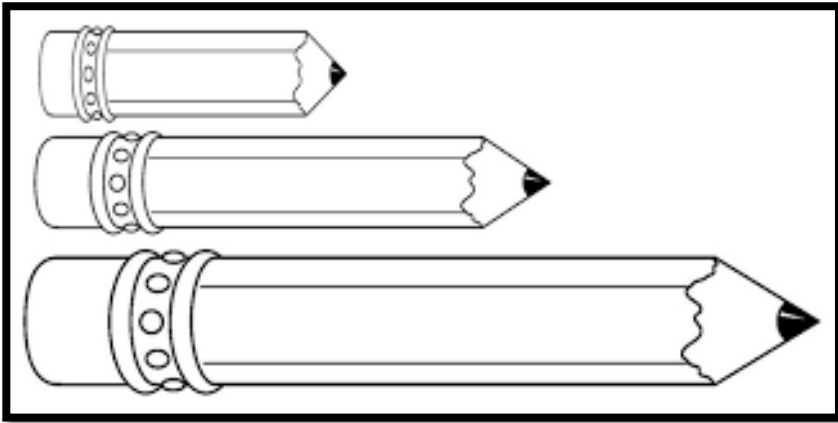
¿Cuál es el más largo o el más corto? Pinta el más corto.




2.













Pinta del color que quieras el objeto más largo.



3. Dibuja objetos más largos que la imagen.



4. Ordena los objetos del más largo al más corto.


	<input type="checkbox"/>		<input type="checkbox"/>
	<input type="checkbox"/>		<input type="checkbox"/>
	<input type="checkbox"/>		<input type="checkbox"/>
	1		<input type="checkbox"/>
	<input type="checkbox"/>		<input type="checkbox"/>

5. Dibuja dos pinceles, uno más largo y el otro más corto.



TICKET DE SALIDA

1. Catalina observa la siguiente imagen.



Si los ordena desde el más corto al más largo, quedaría:

A)



B)



C)



D)



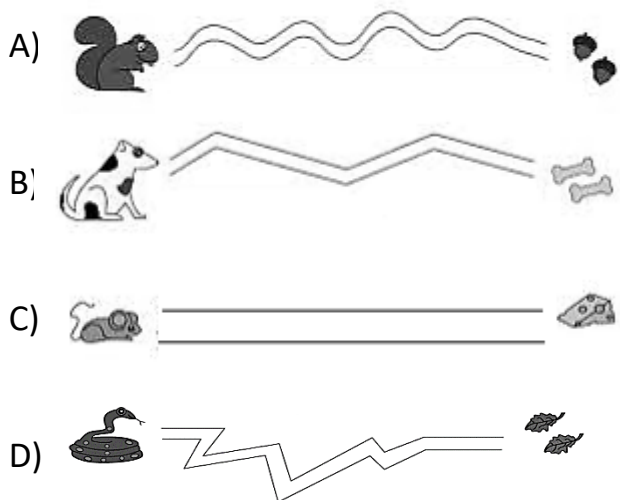
2. El curso está listo para participar en las competencias de alianzas. Gana la alianza que arma la guirnalda más larga.



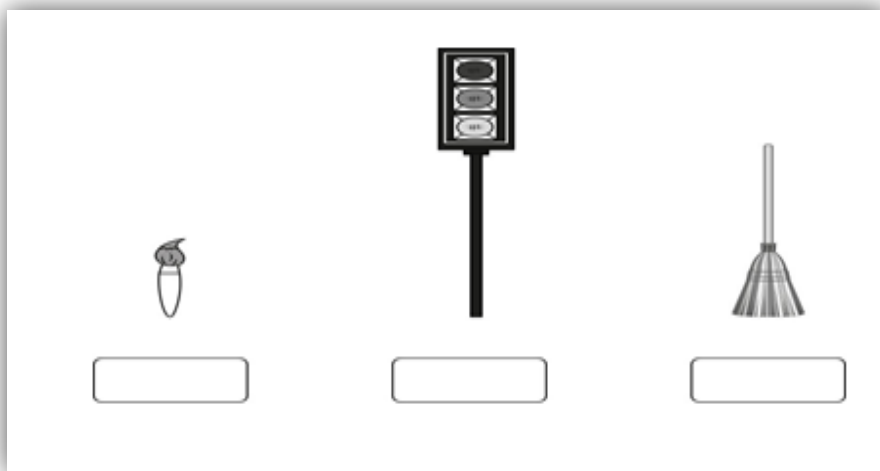
¿Cuál fue la alianza ganadora?

- A) **ALIANZA 3**
- B) **ALIANZA 2**
- C) **ALIANZA 4**
- D) **ALIANZA 1**

3. ¿Cuál es el camino más corto?



4. . Ordena con los números 1, 2 y 3 los siguientes objetos desde el más largo al más corto, luego busca la respuesta correcta.



5. ¿Cuál es el niño que lleva pantalones largos?



A)



B)



C)



D)

SOLUCIONARIO

1	D
2	A
3	C
4	B
5	D