

Nivel educativo	1
Asignatura	Mate
N° de Ficha	3
Objetivo de Aprendizaje	Mostrar que comprenden la adición y la sustracción de números del 0 al 20 progresivamente, de 0 a 5, de 6 a 10, de 11 a 20 con dos sumandos.

Resta del 0 al 10

Para empezar, te invitamos a ver el siguiente video.

<https://www.youtube.com/watch?v=mZQQtcw1Uww>




En síntesis, ahora encontrarás otro signo: $-$, este es el signo de la **resta o sustracción**, y cada vez que lo veas, significa que debes **quitar** elementos. Cuando lo nombres debes decir **menos**.

1. En el patio jugaban 6 niños en el escalador, 2 niños se aburrieron y se fueron a las barras. Entonces, ¿cuántos niños quedaron en el escalador? Explicar que ocurre, contar y leer la sustracción.





Entonces: 6 $-$ menos 2 = igual 4

2. Hay 5 pajaritos y se van 2. Quedan..... pajaritos.



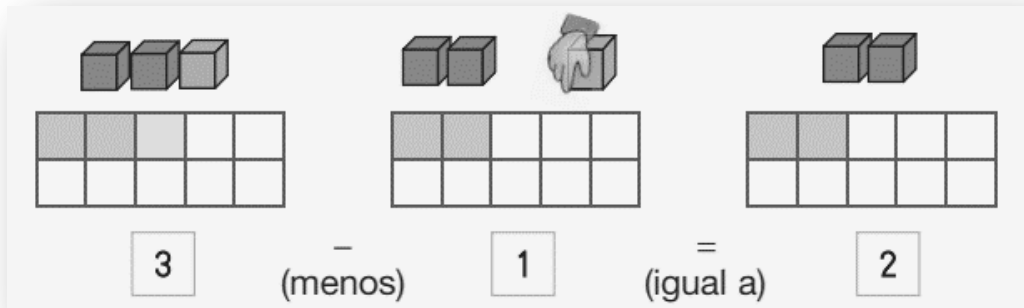
- menos = igual

3. Puedes inventar una situación para la siguiente imagen.
Luego resuelves y completas los recuadros.



- menos = igual


4. Ahora fíjate en este ejercicio. Representaremos la sustracción con cubos. En la sala de primero hay 3 cubos y la profesora Luisa presta 1 a los niños de kinder.
 ¿Cuántos cubos quedan en la sala de primero?



5. Escribe las sustracciones representadas y resuelve.

El Viejito Pascuero tenía 7 gorros, 3 ya estaban muy desteñidos y los regaló. Primero, se representa el total de gorros del viejito. Segundo, se tachan los gorros que regaló. Tercero, cuenta los gorros que no tachaste.

Escribe esa cantidad en el recuadro vacío.



$$\boxed{7} - \boxed{3} = \boxed{}$$



$$\boxed{4} - \text{menos } \boxed{3} = \text{igual } \boxed{}$$

	$8 - 2 = \boxed{}$
--	-------------------------------

Ahora, resuelves solito o solita.




$$\boxed{8} - \boxed{4} = \boxed{}$$

TICKET DE SALIDA

1. Escucha la siguiente situación:


Nicolás tenía 5 ovejas.
Le regaló 3 a su hermano Juan.
¿Cuántas ovejas le quedan a Nicolás?



- A) 5
- B) 4
- C) 2
- D) 8


2. En el patio había 9 pollitos recién nacidos. Uno de ellos se fue a dormir a su nido que estaba en el gallinero. ¿Cuántos quedaron junto a la gallina?

- A) 10
- B) 7
- C) 9
- D) 8







3. La sustracción representada es

- A) $10 - 4 =$
- B) $6 - 4 =$
- C) $10 - 3 =$
- D) $10 - 6 =$



4. María tenía 4 hermosas flores. Decidió regalarle 2 a su abuelita.

Si tachó las flores que María regaló, la representación queda en la opción...


- A) 
- B) 
- C) 
- D) 



5. Fito la foca, atrapó 5 peces y se comió 2.

¿Cuántos peces tiene Fito ahora?

- A) La misma cantidad de peces.
- B) Más peces.
- C) Menos peces.
- D) Aumentó la cantidad de peces.



SOLUCIONARIO

1	C
2	D
3	A
4	B
5	C

