

Nivel educativo	1
Asignatura	Mate
N° de Ficha	22
Objetivo de Aprendizaje	Identificar en el entorno figuras 3D y figuras 2D y relacionarlas, usando material concreto.


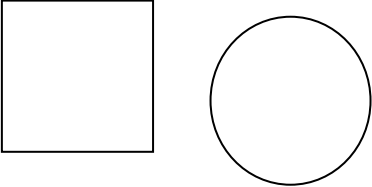


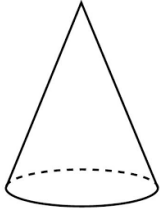
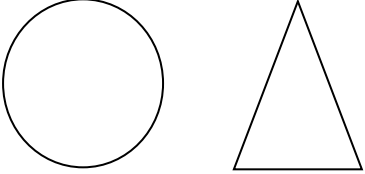
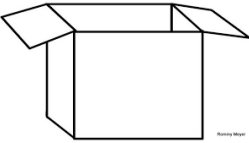
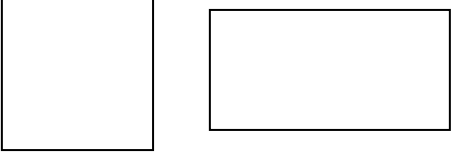
FIGURAS 2D y 3D

Para empezar, te invitamos a ver el siguiente video:








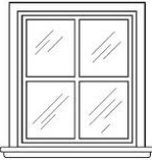



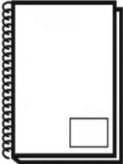
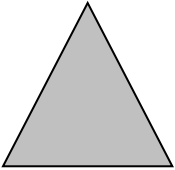


<https://www.youtube.com/watch?v=oUKztdskEGY>

En síntesis, relacionarás las figuras 3D y 2D con objetos de la realidad.


1. ¿Qué figura 2D se puede encontrar? Encierra en un círculo la correcta.

2. Observa la figura geométrica.
Encierra los objetos que tienen la misma forma.

3. ¿Qué figura geométrica completa el rompecabezas?

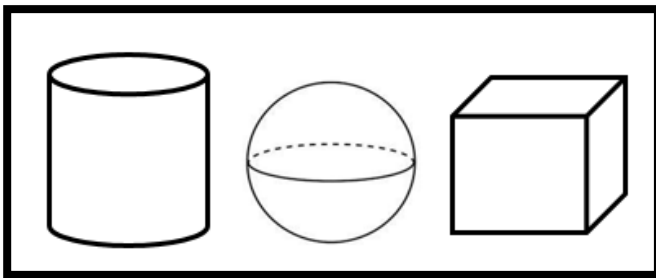


Dibuja la figura 2D que falta. _____

4. Observa atentamente y responde la pregunta.

¿Cuántos de estos cuerpos geométricos tienen solo superficies curvas?

Marca con una X.




5. Observa el siguiente objeto.





- ¿Con qué figura 3D se asemeja en su forma?

Dibuja:

6. Observen los objetos y escriban **SÍ** en caso rueden,
y **NO** en caso no rueden.



•  y  → _____.

•  y  → _____.

•  y  → _____.

TICKET DE SALIDA

1. ¿Cuál es el cuerpo geométrico que está representado por la siguiente figura?



A)



B)

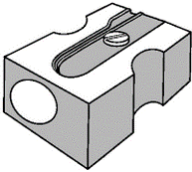


C)




D)


2. ¿Cuál es el objeto que no tiene ningún círculo?



A)



B)




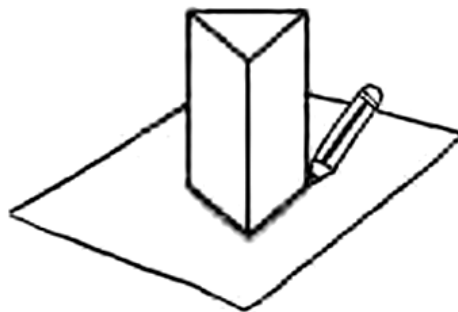
C)



D)

3.


4. ¿Qué figura 2D obtienes cuando dibujas marcando el contorno de cada objeto?




A)



B)




C)

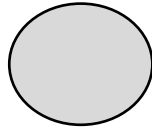


D)

5. ¿Qué figura está tapada con la caja del perrito?



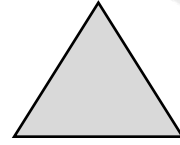
A)



B)





C)



D)

6. Observa esta imagen.

¿Cuál es la figura 2D que representa una de sus caras?




A)



B)



C)



D)

SOLUCIONARIO

1	C
2	C
3	A
4	D
5	B