

Nivel educativo	1
Asignatura	Mate
N° de Ficha	1
Objetivo de Aprendizaje	Demostrar que comprenden la adición y la sustracción de números del 0 al 20 progresivamente, de 0 a 5, de 6 a 10, de 11 a 20 con dos sumandos.


## Adición del 0 al 20

Para empezar, te invitamos a ver el siguiente video.

<https://www.youtube.com/watch?v=lgTHXU0AS-w>

En síntesis, encontrarás el signo  $+$  que es el de la adición y lo verás cada vez que debas agregar elementos. Cuando lo nombre deberás decir **más**.

1. Observa y colorea los globos que tiene cada uno, cuenta y completa:




El conejo tiene  globos.

El oso tiene  globos.

Juntos tienen  globos.


- El ejercicio que acabas de hacer, es una **suma o adición**, ya que **agrupaste** los globos del conejo y los globos del oso. Al contar uno a uno cada elemento estás sumando. Observa:



3 y 3 =

o bien 3 + 3 =

2. Sigue con otro ejemplo:




El payaso 1 tiene  globos. El payaso 2 tiene  globos.

Juntos tienen  globos

Entonces:  +  =

3. Dibujar la cantidad de bolitas que indican las etiquetas, luego las agrupas en el último saco. Escribe el valor total en la etiqueta en blanco.




4. Escribe el total de elementos que hay; **adiciona**. Adiciona significa que tienes que sumar.

$1 \text{ turtle} + 3 \text{ turtles} = \square$   
 $\square + \square = \square$

5. Observa la adición y represéntala formando 2 grupos en cada caso.

$$3 + 5 = 8$$




6. Representa con ● la siguiente adición:

$$4 + 6 = 10$$



### TICKET DE SALIDA

1. Ayer, a Manuela se le perdió una oveja de su rebaño. Hoy está contenta porque su esposo encontró la oveja que se había perdido. ¿Cuántas ovejas tiene en total Manuela?






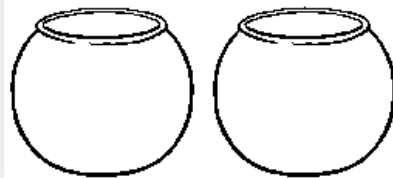

- A) 9
- B) 10
- C) 11
- D) 1

2. En una semana el perrito de Lucas enterró 7 huesos en la terraza de su casa. A la semana siguiente el perrito enterró 2 huesos más. El perrito de Lucas ha enterrado en total:

- A) 9 huesos.
- B) 7 huesos.
- C) 2 huesos.
- D) 5 huesos.

3. Alex tiene que representar con peces la siguiente adición. ¿Cuál sería la opción correcta, que Alex debiera dibujar?




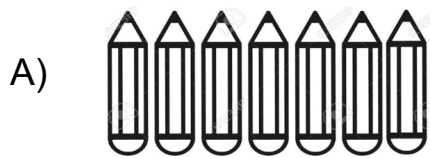
$$6 + 3$$



4. Si tengo 3 collares y me regalan otros 2 al final tengo.....

- A) menos collares.
- B) más collares.
- C) menor cantidad de collares.
- D) 1 collar.

5. Luisa tiene 6 lápices y Mónica 2.  
¿Cuántos lápices juntan las dos?



## SOLUCIONARIO

1	B
2	A
3	D
4	B
5	C