

Nivel educativo	1
Asignatura	Mate
N° de Ficha	17
Objetivo de Aprendizaje	Comparar y ordenar números del 0 al 20 de menor a mayor y/o viceversa, utilizando material concreto y /o usando software educativo.

Resolución de problemas

Para empezar, te invitamos a ver el siguiente video


<https://www.youtube.com/watch?v=olxL-IDz12Y>

En síntesis, aprenderás a resolver problemas comparando cantidades.


1. Don Juan y don Pancho **comparan** la cantidad de animales que tiene cada uno. ¿Quién tiene más? Marca el que tiene más.



Don Juan



Don Pancho



- Dibuja círculos reemplazando los dibujos de animales que tienen tanto don Juan y don Pancho.


Don Juan _____



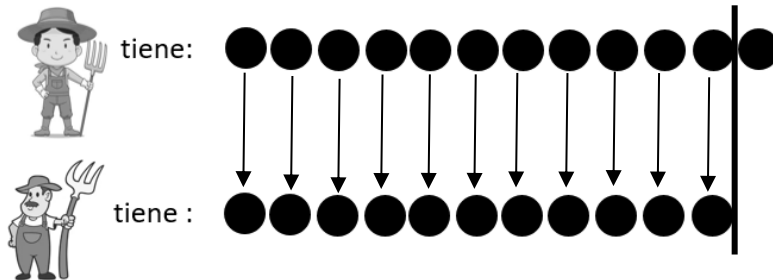
Don Pancho _____



- Entonces, ¿quién tiene más? Marca con una X:



- Si dibujaste 12 círculos para don Juan y 11 para don Pancho, está correcto.





Ahora responderás la siguiente pregunta:

¿Cuántos animales más tiene don Juan que don Pancho?

Fíjate en la imagen y verás que hay una **línea de comparación**.

Hay un círculo más que corresponde a Don Juan.

Entonces don  tiene _____ animal más que don .

¿Entendiste cómo se puede resolver un problema de comparación.

Resolveremos otro problema diferente. ¡A pensar!

Pedro tiene 10 años y Cristóbal 8. ¿Cuántos años tiene Rosario, si



está entre los dos? Escribe los valores debajo de cada niño y obtendrás la respuesta.



Rosario tiene

¡Excelente!


2. En el Buin Zoo hay 20 ovejas y 18 cabras. ¿Qué hay más?
¿Ovejas o cabras? Tacha la respuesta correcta.



¿Cuántas cabras menos hay? _____

Puedes hacer círculos para resolver.

3. El león duerme 18 horas diarias y el murciélago 13.
¿Quién duerme más horas al día, el león o el murciélago?
Tacha la respuesta correcta.



Harás los círculos para las horas que duerme el león y debajo las horas que duerme el murciélago.

Trazarás la línea de comparación y tendrás el resultado.


--	--	--	--	--	--	--	--	--	--	--	--	--	--	--	--	--	--	--	--	--	--	--

--	--	--	--	--	--	--	--	--	--	--	--	--	--	--	--	--	--	--	--	--	--	--


¿Cuántas horas más duerme el león que el murciélago? _____

4. ¡iiiiii A pensar a pensar!!!!!!

Renato tiene 17 láminas y Viviana 13. ¿Quién tiene más?
Encierra el niño que tiene más láminas.



5. Observa la siguiente fotografía de un curso.




Si hay 11 alumnos y 6 son niños, ¿cuántas niñas son?


Hay niñas.

TICKET DE SALIDA

1. José quiere dibujar 2 pelotas más que yo-yo.
¿Cuántas le faltan?



- A) 2
B) 3
C) 4
D) 5
2. Manuel tiene 9 autitos y Luis tiene 4.
¿Cuántos autos tiene Manuel más que Luis?




- A) 9
B) 3
C) 6
D) 7
3. Lola pescó 6 peces. Francisco pescó 3 peces más que Lola.
¿Cuántos peces pescó Francisco?

- A) 9
B) 3
C) 6
D) 7

4. Martín tiene 10 pastillas. Si se comiera 3, tendría los mismos que Elena.
¿Cuántas pastillas tiene Elena?

- A) 13
- B) 7
- C) 6
- D) 3

5. Julio y Dominga fueron al supermercado a comprar galletas.
¿Quién compró más?



- A) Julio compró 6 galletas más.
- B) Dominga compró 3 galletas más.
- C) Julio compró más.
- D) Dominga compró más.

SOLUCIONARIO

1	D
2	C
3	A
4	B
5	D