

Nivel educativo	1
Asignatura	Mate
N° de Ficha	14
Objetivo de Aprendizaje	Leer números del 0 al 20 y representarlos en forma concreta, pictórica y simbólica.

Leer números del 0 al 20.

Para empezar, te invitamos a ver el siguiente

<https://www.youtube.com/watch?v=7tq6dbOc3oU>

En síntesis, leerás y representarás de manera concreta, pictórica y simbólica los números del 0 al 20.

1. Unir con una flecha cada grupo de elementos con su cardinal como en el ejemplo.

6 buckets

5 beach balls

2 shovels

5 beach towels

8 octopuses


5

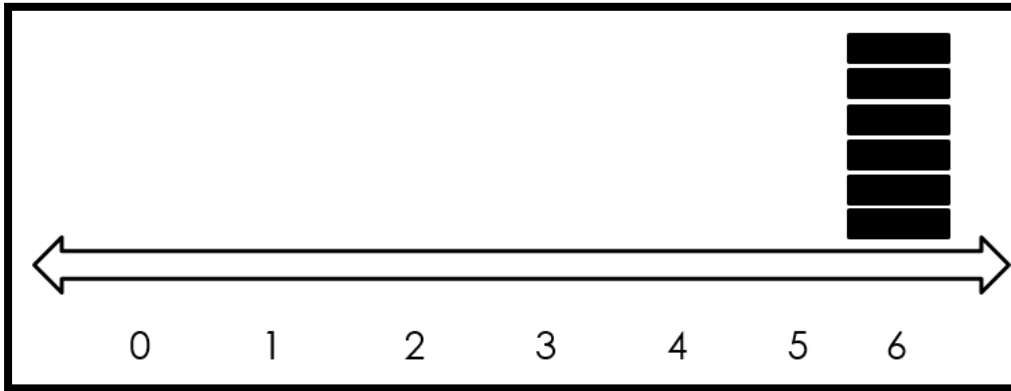
6

10


8

2

2. Completa el gráfico dibujando tantos  como te indica el número.




3. Rodea con una cuerda el número que corresponde a la cantidad de elementos.



7

8

9

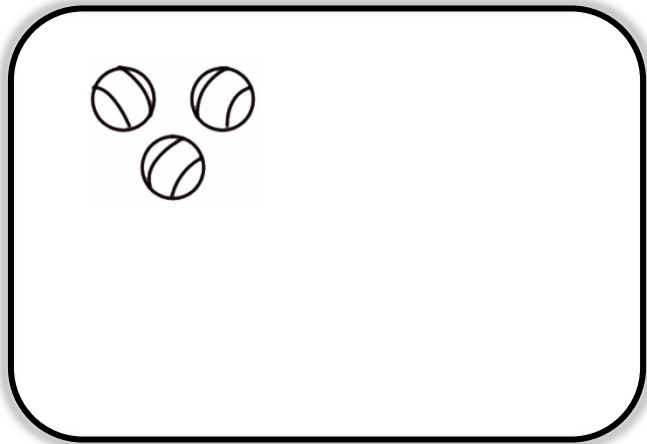


14

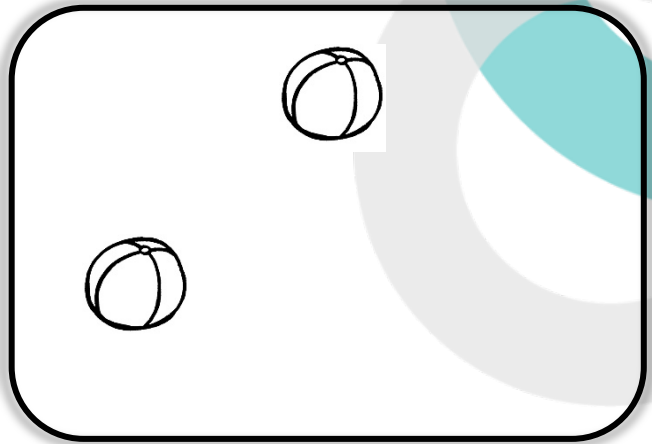
15

16

4. Dibuja la cantidad de pelotas que faltan para completar en número indicado.




10







13

5. ¿Cómo vas? ¡Muy bien! Dibuja la cantidad de bolitas que indican las etiquetas.



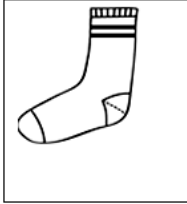
6. ¡Excelente!

En el siguiente cuadro, hay representaciones de manera concreta, pero no está la simbólica. O bien falta la pictórica y está la representación simbólica. Lo que tienes que hacer es completar las representaciones que faltan.

CONCRETA	PICTÓRICA	SIMBÓLICA
		
		<p style="text-align: center;">10</p>
		

TICKET DE SALIDA


1. Lucía hará un inventario (inventario es una lista de cosas) de los objetos que hay en el cajón de su cómoda. Por cada elemento pintó un cuadrado. ¿Cuántos objetos tenía en el cajón?



- A) 12
- B) 11
- C) 10
- D) 9

2. ¿Cuál de las siguientes opciones representa de manera concreta el número 3?


A)




B)




C)



D)

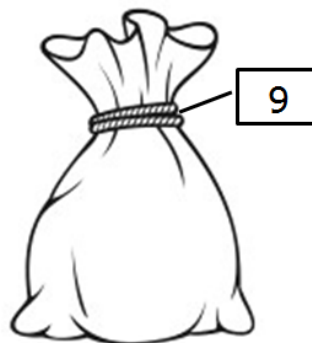






3. La representación simbólica de la siguiente imagen es




- A) 13
- B) 14
- C) 15
- D) 16

4. Observa la bolsa con su correspondiente etiqueta.
¿Cuál es el dibujo que le corresponde a la etiqueta?






- A) 
- B) 
- C) 
- D) 

5. ¿Cuál de las siguientes opciones representa de manera pictórica y simbólica lo que está en forma concreta?



A)  = 1

B)  = 

C)  = 1

D)  = uno

SOLUCIONARIO

1	A
2	D
3	B
4	D
5	C